




La (X) no es sólo una letra

Nombre: _____

Empiezo la ficha el día: _____


Calcular el valor.

X =  (coloreo el tomate de rojo).





$$3x + 5x = 3 \text{  } + 5 \text{  } = \square \text{  }$$

$$8x - 3x = 8 \text{  } - 3 \text{  } = \square \text{  }$$

$$3x + 5x - 2x = 3 \text{  } + 5 \text{  } - 2 \text{  } = \square \text{  }$$

X =  (coloreo el balón de amarillo o de verde).

$$x + 4x + 10x = \text{  } + 4 \text{  } + 10 \text{  } = \square \text{  }$$

$$2x - x + 8x = \square \text{  } - \square \text{  } + \square \text{  } = \square \text{  }$$



La (X) no es sólo una letra

Nombre: _____

Empiezo la ficha el día: _____

Calcular el valor.

X = el tomate vale 2 euros (2)  (coloreo el tomate de rojo)

$$3x + 5x = 3 \text{  + 5 \text{ $$

$$3x + 5x = 3 \cdot (2) + 5 \cdot (2)$$
$$\square + \square = \square$$

X = el tomate vale 3 euros (3)  (coloreo el tomate de rojo)

$$3x + 5x = 3 \text{  + 5 \text{ $$

$$3x + 5x = 3 \cdot (3) + 5 \cdot (3)$$
$$\square + \square = \square$$